

التناقص الإشعاعي

I. نواة الذرة

• تركيب النواة

الدقائق المكونة لنواة الذرة تسمى نويات و هما نوعان: بروتونات و نوترونات.
رمز نواة الذرة هو:

X رمز العنصر الكيميائي ذي العدد الذري Z	}	$\begin{matrix} A \\ Z \\ X \end{matrix}$
Z عدد البروتونات (عدد الشحنة)		
A عدد النويات (عدد الكتلة)		
$N=A-Z$ عدد النوترونات		

• العنصر الكيميائي

تعريف يتكون عنصر كيميائي من مجموعة الذرات أو الأيونات الأحادية الذرة التي لها نفس عدد الشحنة.

• النويده

تعريف النويده مجموعة النوى التي لها نفس العدد A من النويات و نفس العدد Z من البروتونات.
تمثل نويده برمز النواة: $\begin{matrix} A \\ Z \\ X \end{matrix}$

مثال: النويده $^{14}_6\text{C}$ مجموعة نوى الكربون التي تتكون من 6 بروتونات و $14-6=8$ نوترونات.
• النظائر


تعريف النظائر هي النويدات التي لها نفس العدد Z (تنتمي لنفس العنصر الكيميائي) لكنها تختلف من حيث العدد A .

مثال: $^{37}_{17}\text{Cl}$ و $^{35}_{17}\text{Cl}$ هما نظيران للكور.

II. استقرار أو عدم استقرار النوى

• تماسك النواة

في النواة يوجد نوعان من القوى:

- القوى الكهروساكنة التنافرية الكائنة بين البروتونات وترجح إلى تفتيت النواة.
 - التأثيرات البينية النووية القوية الكائنة بين النويات و ترجح إلى تحقيق تماسك النواة.
- تحت تأثير هذه القوى بعض النوى تكون مستقرة و البعض الآخر غير مستقر فيحصل لها تفتت تلقائي:
نقول أن لها نشاط إشعاعي.
قوى التجاذب الكوني مهملة أمام هذه القوى. 

• النشاط الإشعاعي

النواة التي لها نشاط إشعاعي هي نواة غير مستقرة تفتت تلقائيا. نواتج هذا التفتت هي:

- تكون نواة جديدة تسمى النواة المتولدة،
- انبعاث دقيقة رمزها α أو β^- أو β^+ ،
- انبعاث إشعاع كهرومغناطيسي رمزها γ .

تعريف

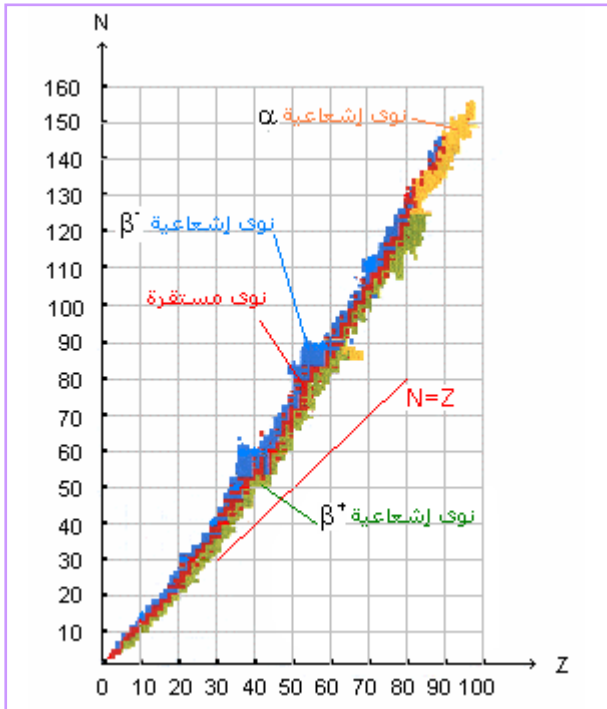
النشاط الإشعاعي تحول نووي:

- تلقائي: يحدث التفتت بدون تدخل أي عامل خارجي،
- عشوائي: لا يمكن معرفة متى سيحدث تفتت نواة،
- مستقل عن التركيبة الكيميائية التي تنتمي إليها النواة،
- مستقل عن العوامل الخارجية مثل الضغط و درجة الحرارة.

• منطقة الاستقرار

تمثل النوى (النويدات) في المخطط (N,Z) الذي يسمى مخطط "سيغري".
النوى المستقرة تقع في منطقة من المخطط تسمى منطقة الاستقرار.
يبرز هذا المخطط ما يلي:

- بالنسبة ل $Z < 20$ عدد البروتونات يساوي عدد النوترونات .
- بالنسبة ل $Z > 20$ عدد النوترونات يفوق عدد البروتونات، مما يدل على الدور الهام الذي تؤديه النوترونات في استقرار النواة.



في هذا المخطط نميز بين أربع مجموعات:

- مجموعة النوى المستقرة و تقع في المنطقة الوسطى من المخطط (منطقة الاستقرار) .
مثال: النوية $^{12}_6\text{C}$ مستقرة نوويا: ليس لها نشاط إشعاعي.
- مجموعة النوى التي لها نشاط إشعاعي من نوع α و هي نوى ثقيلة ذات عدد كتلة يفوق 200.
مثال: النوية $^{238}_{92}\text{U}$
- مجموعة النوى التي لها نشاط إشعاعي من نوع β^- و هي نوى تمتلك فائضا من النوترونات مقارنة مع نوى مستقرة لها نفس عدد الكتلة.
مثال: النوية $^{14}_6\text{C}$
- مجموعة النوى التي لها نشاط إشعاعي من نوع β^+ و هي نوى تمتلك فائضا في عدد البروتونات مقارنة مع نوى مستقرة لها نفس عدد الكتلة.
مثال: النوية $^{13}_7\text{N}$

III. التفاعلات النووية التلقائية

• أنواع الانبعاثات الإشعاعية

- الدقائق α هي نوى الهليوم ${}^4_2\text{He}$ ،
- الدقائق β^- هي إلكترونات ${}^0_{-1}e$ ،
- الدقائق β^+ هي بوزيترونات ${}^0_{+1}e$ ، ويعتبر البوزيترون الجسيم المضاد للإلكترون أو نقيض الإلكترون (نفس الكتلة لكن شحنة موجبة). تختفي البوزيترونات حال انبعاثها إذ تضمحل مع الإلكترونات التي تصطدم بها فتتحول إلى طاقة.
- الإشعاع γ و هو إشعاع كالموجات الضوئية لكنه يتميز بطول موجة قصير و طاقة عالية. ينتج عن فقدان الإثارة للنوية المتولدة عن تفتت.

• قانون الانحفاظ (قانون صودي)

خلال تفتت α أو β ينحفظ عدد الشحنة Z و عدد النويات A .
 إذا كانت معادلة التفتت هي: ${}^A_ZX \rightarrow {}^A_ZY + {}^a_zp$
 فإن قانون الانحفاظ يفرض العلاقتين التاليتين:
 $A = A' + a$
 $Z = Z' + z$

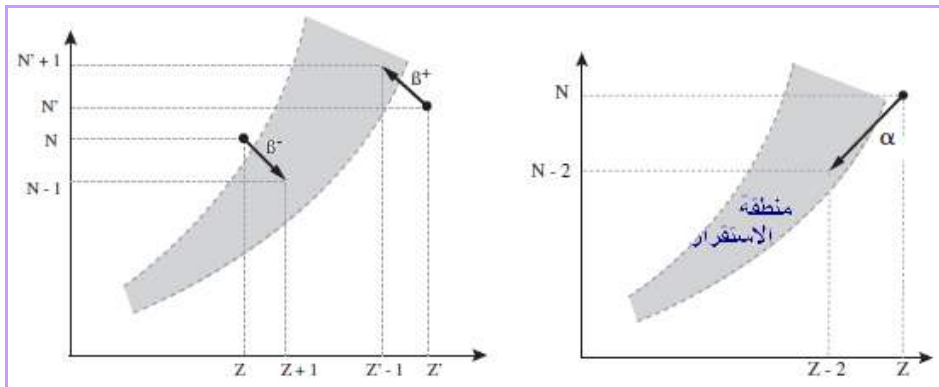
التحول النووي يغير النواة: ليس هناك انحفاظ للعنصر الكيميائي.

• المعادلات النووية

<u>مثال</u> ${}^{238}_{92}\text{U} \rightarrow {}^{234}_{90}\text{Th} + {}^4_2\text{He}$	${}^A_ZX \rightarrow {}^{A-4}_{Z-2}Y + {}^4_2\text{He}$	النشاط الإشعاعي α
<u>مثال</u> ${}^{14}_6\text{C} \rightarrow {}^{14}_7\text{N} + {}^0_{-1}e$	${}^A_ZX \rightarrow {}^A_{Z+1}Y + {}^0_{-1}e$	النشاط الإشعاعي β^-
<u>مثال</u> ${}^{13}_7\text{N} \rightarrow {}^{13}_6\text{C} + {}^0_1e$	${}^A_ZX \rightarrow {}^A_{Z-1}Y + {}^0_1e$	النشاط الإشعاعي β^+
	${}^A_ZY^* \rightarrow {}^A_ZY + \gamma$	الانبعاث γ

الرمز * يمثل حالة الإثارة للنوية المتولدة.

• التمثيل المبياني للتفتتات



يبرز هذا التمثيل المبياني أن النشاط الإشعاعي ينقل النويدات إلى منطقة الاستقرار.

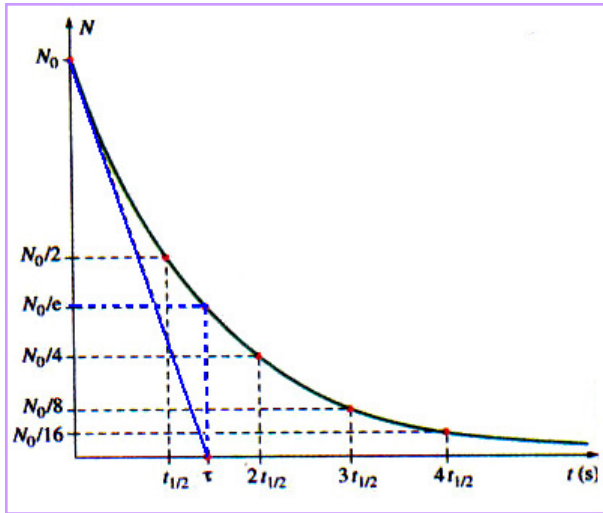
IV. التناقص الإشعاعي

• قانون التناقص الإشعاعي

الصيغة التفاضلية	الصيغة التكاملية
تناقص عدد النوى المشعة في عينة خلال مدة dt يتناسب مع عدد النوى و مع المدة الزمنية:	يتناقص عدد النوى المشعة المتبقية في عينة بدلالة الزمن حسب دالة أسية :
$dN = -\lambda N dt$	$N = N_0 e^{-\lambda t}$
λ ثابتة تميز النواة المتفتتة و تسمى الثابتة الإشعاعية و وحدتها s^{-1} .	N_0 العدد البدئي للنوى في العينة.

• ثابتة الزمن

تعريف ثابتة الزمن هي مدة معرفة بالعلاقة التالية: $\tau = \frac{1}{\lambda}$ (s)
 τ تميز النواة المتفتتة. كلما كانت τ صغيرة كلما كان التناقص سريعا.



تحدد ثابتة الزمن مبيانيا باستعمال منحنى

التناقص الإشعاعي:

- ✓ τ تمثل المدة اللازمة لتفتت 63% من العدد البدئي N_0 .
- ✓ τ تمثل أفصول نقطة تقاطع المماس للمنحنى في اللحظة $t=0$ مع محور الزمن.

• عمر النصف

عمر النصف لنويده يساوي المدة $t_{1/2}$ اللازمة لتفتت نصف العدد البدئي للنوى المشعة المكونة لعينة من هذه النويده يعني أن: $N(t+t_{1/2}) = \frac{N(t)}{2}$

تعريف و تعبیره: $t_{1/2} = \frac{\ln 2}{\lambda} = \tau \ln 2$

$t_{1/2}$ تميز النويده.

• نشاط عينة مشعة

نشاط مصدر إشعاعي يساوي عدد التفتتات خلال ثانية في عينة أي تساوي

$$a = - \frac{dN}{dt}$$

سرعة التفتتات:

تعريف

وحدته في النظام العالمي تسمى "البيكريل" *Becquerel* ورمزها *Bq* بحيث:

$$1 Bq = 1 \text{ dés / s} \quad (\text{تفتت واحد في الثانية})$$

و هو مقدار يمكن قياسه بواسطة عداد.

باعتبار قانون التناقص الإشعاعي يمكن التعبير عن النشاط بإحدى العلاقتين التاليتين:

$$a = \lambda N$$

- بدلالة عدد النوى:

$$a = a_0 e^{-\lambda t}$$

- بدلالة الزمن:

a_0 النشاط البدئي.

• التأريخ بالنشاط الإشعاعي

يستخدم الكربون 14 (نشاط إشعاعي β^- و عمر نصف يساوي 5 600 سنة) كمقياس لتقدير

أعمار الحفريات ذات الأساس البيولوجي والتي قد يصل عمرها 50 000 سنة.

كما يستعمل اليورانيوم 238 (نشاط إشعاعي α و عمر نصف يساوي $4,5 \cdot 10^9$ سنة) في تأريخ الصخور المعدنية القديمة.

$$t = \frac{\text{Ln} \frac{a_0}{a}}{\text{Ln} 2} \cdot t_{1/2}$$

عمر عينة يحدد بالعلاقة التالية:

بقياس a ومعرفة كل من a_0 و $t_{1/2}$ يمكن تقدير t .