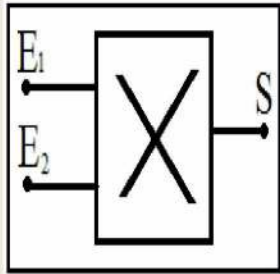


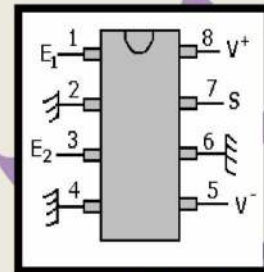
I-مبدأ تضمين الوسع:

1-الدارة المتكاملة المنجزة للجداء:

الدارة المتكاملة للمنجزه للجداء AD633 عبارة عن علبة سوداء تتوفر على ثمانية مرابط يتم التعرف عليها بواسطة علامة الترقيم التي توجد أعلى الدارة المتكاملة.



نرمز لها في دارة كهربائية بالرمز الاصطلاحي:



تمكن الدارة المتكاملة AD633 من الحصول عند مخرجها على دالة جيبيية  $u_s(t)$  تتناسب اطرادا مع جداء الدالتين  $u_1(t)$  و  $u_2(t)$  المطبقتين عند المدخلين  $E_1$  و  $E_2$  لهذه الدارة المتكاملة حيث:

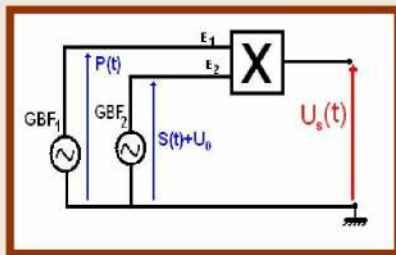
$$u_s(t) = K \cdot u_1(t) \cdot u_2(t)$$

K ثابتة التناسب وهي تتعلق بالدارة المتكاملة AD633.

2-إنجاز تضمين الوسع:

أ - نشاط تجريبي:

ننجز التركيب التجريبي التالي:



يطبق مولد التردد المنخفض  $GBF_2$  على المدخل  $E_2$  للدارة المتكاملة التوتر  $s(t) + U_0$  بحيث  $s(t)$  إشارة جيبيية ضبط وسعها على القيمة  $S_m = 2V$  وترددها  $f_s = 100Hz$  و  $U_0 = 3V > S_m$  القيمة بواسطة  $GBF_2$  على المدخل  $E_1$  ونطبق في المدخل  $E_1$  بواسطة  $GBF_1$  توترا جيبيي  $p(t)$  وسعه  $P_m = 4V$  وتردده  $F_p = 1,2KHz$ .

نعين بالتتابع على شاشة راسم التذبذب التوتر الذي يضم الإشارة  $s(t) + U_0$  و التوتر الحامل  $p(t)$  ثم التوتر  $u_s(t)$  المحصل عليه عند الخروج.

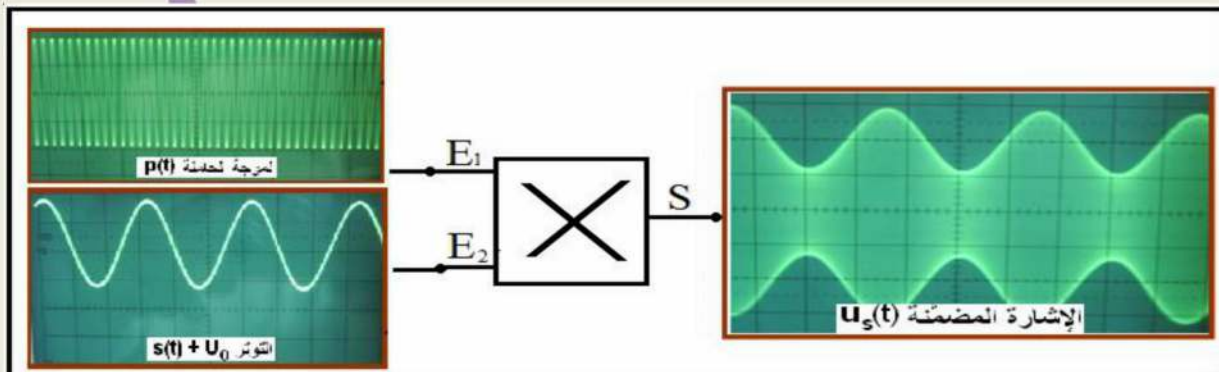
1- أعط أشكال التوترات المحصل عليها.

2- صف التوتر  $u_s(t)$  المحصل عليه عند الخروج.

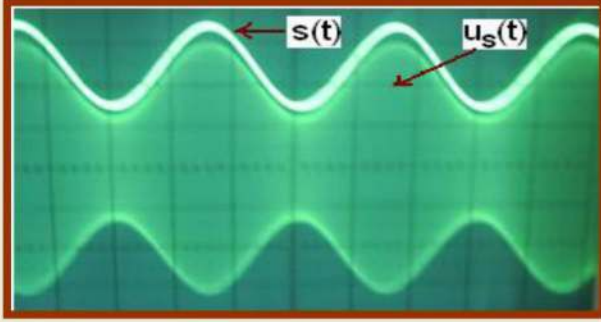
3- قارن غلاف التوتر  $u_s(t)$  مع الإشارة التي تضم المعلومة  $s(t)$ .

ب تحليل النشاط التجريبي:

-1



2- يتبين من خلال المنحنيات المحصل عليها أن الدارة المتكاملة AD633 تمكن من الحصول عند مخرجها على دالة جيبية  $u_s(t)$  يتغير وسعها مع الزمن.



3- من خلال مقارنة التوتر المضمّن  $s(t)$  والتوتر المضمّن  $u_s(t)$  يتبين أن غلاف هذا الأخير يتبع تغيرات التوتر المضمّن  $s(t)$ .

### 3- تعبير التوتر المضمّن الوسع:

تعبير التوتر المضمّن الوسع  $u_s(t)$  يكتب على شكل:  $u_s(t) = K.(U_0 + s(t)).p(t)$

حيث:  $s(t) = S_m \cdot \cos(2\pi f_s \cdot t)$  هي الإشارة التي تحمل المعلومة المراد نقلها.

هي الموجة الحاملة.  $p(t) = P_m \cdot \cos(2\pi F_p \cdot t)$

إذن  $u_s(t) = K.(U_0 + s(t)).P_m \cdot \cos(2\pi F_p \cdot t)$

وبما أن التعبير العام للتوتر المضمّن الوسع هو:  $u_s(t) = U_m(t) \cdot \cos(2\pi F_p \cdot t)$

فإن  $U_m(t) = K.(U_0 + s(t)).P_m = K.P_m.U_0 \left(1 + \frac{S_m}{U_0} \cos 2\pi f_s t\right) = A(1 + m \cdot \cos 2\pi f_s t)$

حيث  $A = K.P_m.U_0$  و  $m = \frac{S_m}{U_0}$  تسمى نسبة التضمين *taux de modulation*

تعبير نسبة التضمين بدلالة  $U_{m.max}$  و  $U_{m.min}$  يمكن أن نبين أن  $m = \frac{U_{m.max} - U_{m.min}}{U_{m.max} + U_{m.min}}$

### 4- جودة التضمين:

#### أ - نشاط تجريبي:

نحتفظ بنفس التركيب التجريبي السابق و نعاين على المدخل (Y) لرسم التذبذب التوتر  $u_s(t)$  و على المدخل (X) إشارة جيبية  $s(t)$ .

1- نضبط  $U_0$  و  $S_m$  بحيث تكون  $U_0 < S_m$ :

أ- أعط شكل التوتر المحصل عليه على المدخل (Y).

ب- قارن غلاف التوتر  $u_s(t)$  مع الإشارة  $s(t)$ . هل تضمين الوسع جيد في هذه الحالة؟

ج- نضبط زر الكسح على النظام X - Y : أعط شكل الرسم التذبذبي المحصل عليه.

2- نضبط  $U_0$  و  $S_m$  بحيث تكون  $U_0 > S_m$ :

أ- أعط شكل التوتر المحصل عليه على المدخل (Y).

ب- نضبط زر الكسح على النظام X - Y : أعط شكل الرسم التذبذبي المحصل عليه، هل له شكل شبه منحرف؟ استنتج

جودة التضمين.

3- نغير قيم التردد  $f_s$  و  $F_p$ : ماذا تلاحظ بالنسبة لتأثير  $f_s$  و  $F_p$  على جودة التضمين؟

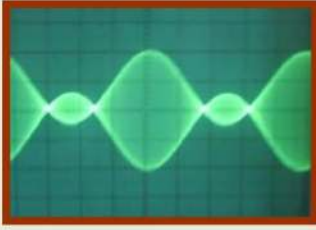


4- استنتج شروط الحصول على تضمين جيد للوسع.

### ب تحليل النشاط التجريبي:

1- نضبط  $U_0$  و  $S_m$  بحيث تكون  $U_0 < S_m$ :

أ- نعاين على المدخل Y لرسم التذبذب التوتر المضمّن  $u_s(t)$  فنحصل على الرسم التذبذبي:



ب- في هذه الحالة نحصل على توتر مضمّن  $u_s(t)$  غلافه مخالف للتوتر المضمّن  $s(t)$  ولا يتبع تغيراته. إذن يكون التضمين في هذه الحالة ذا جودة رديئة.

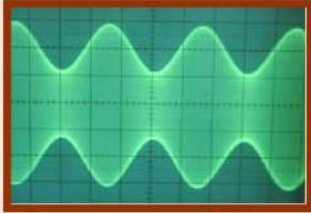
ج- نضبط زر الكسح على النظام Y-X فنحصل على الشكل التالي:



يتضح أننا لم نحصل على شكل شبه منحرف الشيء الذي يدل على أن التضمين غير جيد.


2- نضبط  $U_0$  و  $S_m$  بحيث تكون  $U_0 > S_m$ :

أ- بواسطة راسم التذبذب نحصل على الشكل جانبه (المدخل Y)



ب- نضبط زر الكسح على النظام Y-X فنحصل على الشكل التالي:

في هذه الحالة ( $U_0 > S_m$ ) نحصل على توتر مضمّن غلافه مطابق للتوتر المضمّن  $s(t)$  وفي غياب الكسح نحصل على شكل شبه منحرف الشيء الذي يدل على أن التضمين جيد.



3- نغير قيم الترددين  $f_s$  و  $F_p$  بحيث نجعل تردد التوتر الحامل  $F_p$  من رتبة قدر التوتر المضمّن

$f_s$  فنحصل بواسطة راسم التذبذب في غياب الكسح على الرسم التذبذبي التالي:

يظهر من خلال هذا الشكل أننا لم نحصل على شكل شبه منحرف الشيء الذي يدل على أن التضمين غير جيد.



4- نستنتج من خلال هذا النشاط أنه للحصول على تضمين جيد للوسع يجب أن يكون:

$$\diamond U_0 > S_m \text{ أي أن نسبة التضمين } m = \frac{S_m}{U_0} < 1$$

$\diamond$  تردد التوتر الحامل  $F_p$  أكبر بكثير من تردد التوتر المضمّن  $f_s$  (على الأقل  $F_p > 10f_s$ ).

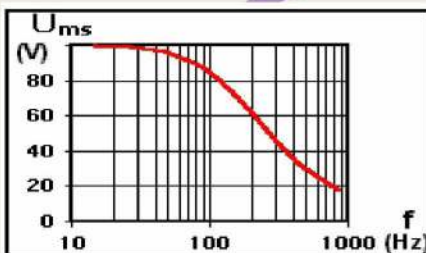
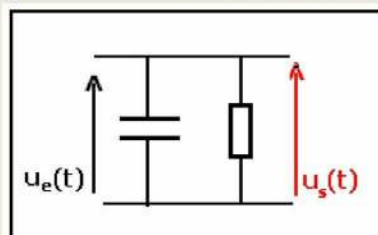
## II- إزالة التضمين La demodulation:

### 1- المرشحات RC Les filtres:

#### أ- المرشح الممرر للترددات المنخفضة Le filtre passe-bas

نسمي المرشح الممرر للترددات المنخفضة الدارة الكهربائية التي تسمح بمرور الإشارات الكهربائية ذات الترددات المنخفضة فقط.

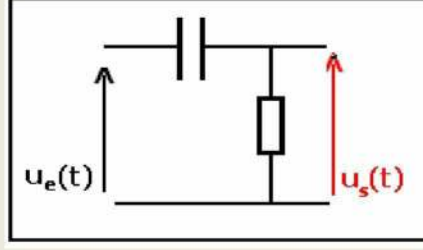
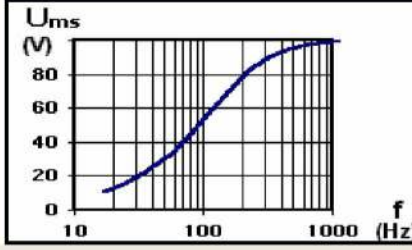
مثال: ثنائي القطب RC المتوازي



نلاحظ أن توتر الخروج يتناهي إلى الصفر عندما نصل إلى ترددات مرتفعة.

### ب-المرشح الممرر للترددات المرتفعة *Le filtre passe-haut*

نسمي المرشح الممرر للترددات المرتفعة الدارة الكهربائية التي تسمح بمرور الإشارات الكهربائية ذات ترددات مرتفعة.



مثال: ثنائي القطب RC المتوالي

نلاحظ أن توتر الخروج يتناهي إلى الصفر عندما تكون الترددات منخفضة

ملحوظة: لا يسمح هذا المرشح بمرور التوترات المستمرة.

### 2- إزالة التضمين:

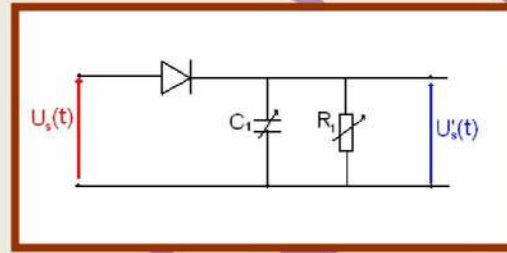
عند استقبال الموجة المضمّنة الوسع يجب فصل الإشارة المضمّنة عن الموجة الحاملة، تسمى هذه العملية إزالة التضمين ولإنجازها يجب:

**أ- كشف غلاف الإشارة المضمّنة:**

لهذا الغرض نستعمل دارة كاشف الغلاف *detecteur d'enveloppe* وهي عبارة عن رباعي قطب يتكون من صمام ثنائي وثنائي القطب RC المتوازي. وللحصول على كشف غلاف جيد يجب أن يكون التوتر  $u_s(t)$  عند مخرج هذه الدارة ذا موجات ضعيفة ويشبه إلى حد كبير الإشارة المضمّنة.

### ⊗ نشاط تجريبي:

ننجز التركيب التجريبي التالي:



يمثل  $u_s(t)$  توتر الخروج بالنسبة للدارة المتكاملة المنجزة للجداء. بضبط  $R_1$  و  $C_1$  على القيم  $C_1 = 47nF$  و  $R_1 = 10K\Omega$ .

1- نعاين بواسطة راسم التذبذب على المدخل (Y) التوتر  $u_s(t)$  و على المدخل (X) التوتر  $u_s'(t)$ . أعط الرسم التذبذبي المحصل عليه.

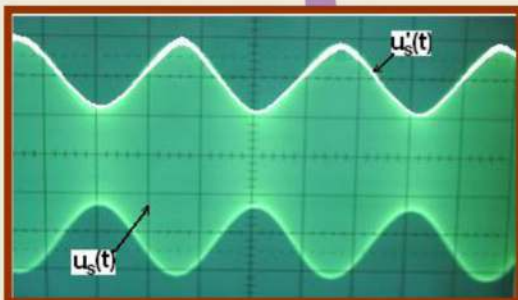
2- قارن التوتر  $u_s'(t)$  مع غلاف التوتر  $u_s(t)$ . هل التوتر  $u_s'(t)$  متناوب؟

3- تحقق أن كشف غلاف التوتر المضمّن  $u_s(t)$  يتم بكيفية جيدة إذا كان  $T_p \ll R_1 C_1 < T_s$  بحيث  $T_p$  دور التوتر الحامل و  $T_s$  دور الإشارة المضمّنة.

### ⊗ تحليل النشاط التجريبي:

1- نعاين بواسطة راسم التذبذب على المدخل (Y) التوتر  $u_s(t)$  و على المدخل

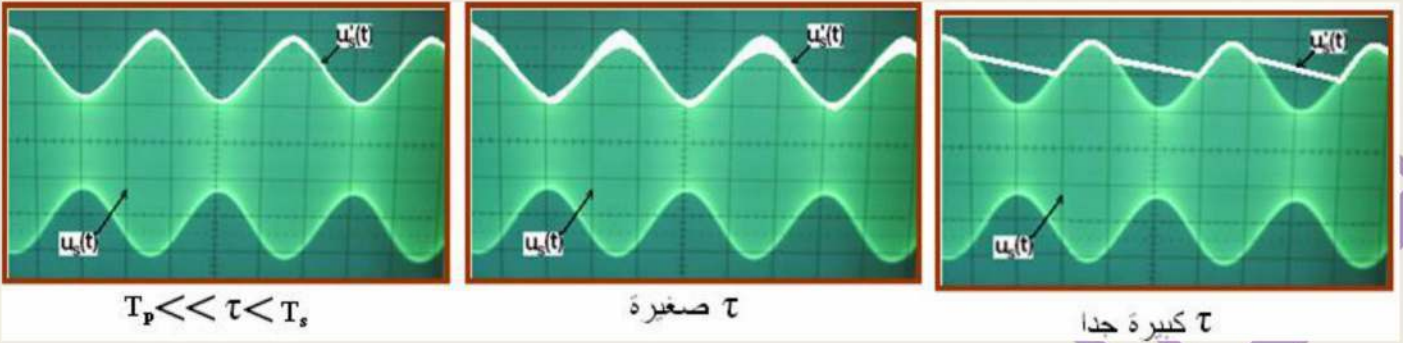
(X) التوتر  $u_s'(t)$  فنحصل على الرسم التذبذبي جانبه:





2- من خلال الرسم التذبذبي نلاحظ أن تغيرات التوتر  $u'_s(t)$  تطابق غلاف التوتر  $u_s(t)$  و أن  $u'_s(t)$  يأخذ في كل لحظة قيما موجبة.

3- نغير قيم كل من  $R_1$  و  $C_1$  فنحصل على الأشكال التالية:



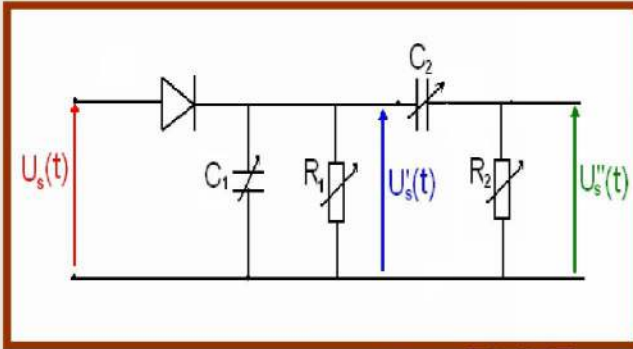
نلاحظ من خلال هذه الأشكال أن كشف الغلاف يكون جيدا عندما تكون ثابتة الزمن تحقق المتراحة التالية:

$$T_P \ll \tau < T_S$$

حيث  $T_P$ : دور التوتر الحامل و  $T_S$ : دور الإشارة المضمّنة

ب- إزالة المركبة المستمرة  $U_0$ : لهذا الغرض نستعمل مرشح ممر للترددات المرتفعة.

⊗ نشاط تجريبي:



نضيف للتركيب التجريبي السابق ثنائي القطب  $R_2C_2$ :

نعين بواسطة راسم التذبذب التوتر  $u'_s(t)$  على المدخل (X) و التوتر  $u''_s(t)$  على المدخل (Y).

1- أعط الرسم التذبذبي المحصل عليه.

2- استنتج الدور الذي يلعبه ثنائي القطب  $R_2C_2$ .

3- قارن التوتر  $u''_s(t)$  و التوتر  $u'_s(t)$ . ماذا تستنتج؟

⊗ تحليل النشاط التجريبي:

1- نعين بواسطة راسم التذبذب التوتر  $u'_s(t)$  على المدخل (X) وعلى

المدخل (Y) التوتر  $u''_s(t)$  فنحصل على الرسم التذبذبي التالي:

2- انطلاقا من مقارنة التوترين المحصل عليهما نستنتج أن ثنائي القطب

$R_2C_2$  يقوم بحذف المركبة المستمرة  $U_0$ .

3- يتبين من خلال الرسم التذبذبي المحصل عليه بواسطة راسم التذبذب أن التوتر  $u''_s(t)$  يطابق إلى حد كبير الإشارة

المضمّنة  $s(t)$ . إذن نستنتج أن تضمين و إزالة تضمين الوسع تمت بشكل جيد.

### III-إنجاز جهاز يستقبل بث إذاعي بتضمين الوسع:

يعتمد مبدأ إنجاز هذا الجهاز على أربع مراحل أساسية كما هو مبين في التبيانة الاصطلاحية التالية:

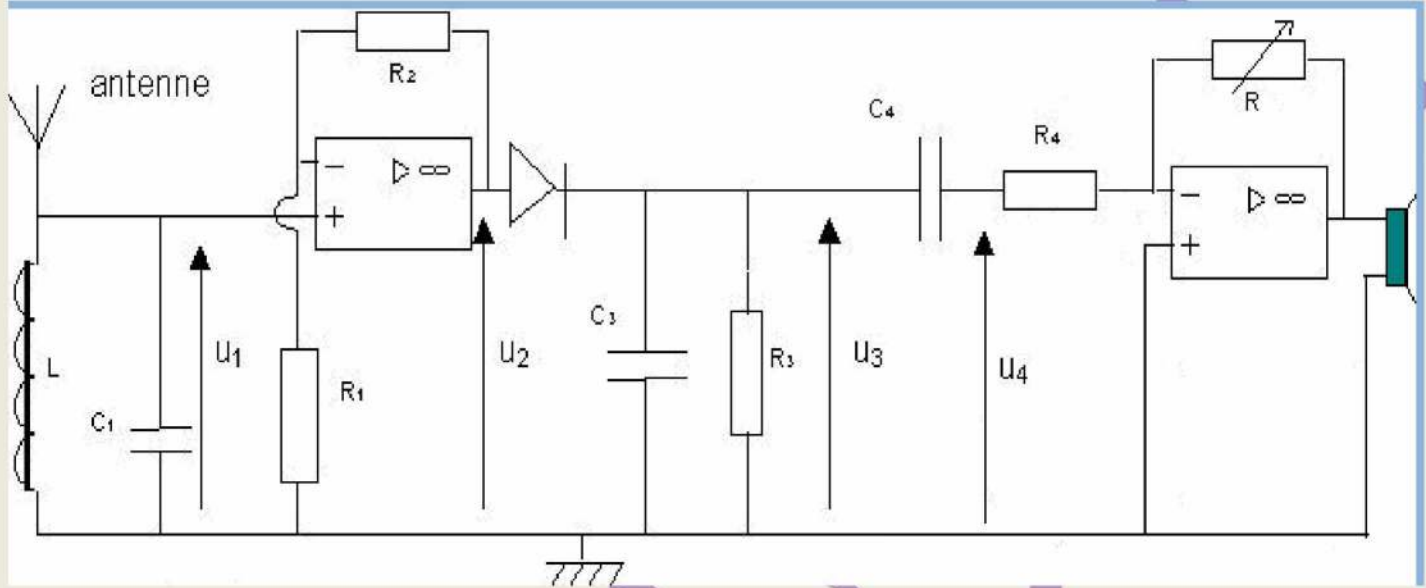
استقبال موجات الراديو

انتقاء المحطة

تضخيم التوتر المضمن

إزالة التضمين

ولإنجاز هذا الجهاز الذي يمكننا من استقبال بث إذاعي بتضمين الوسع نستعمل التركيب التجريبي التالي:



يمكننا هذا التركيب التجريبي من استقبال البث الإذاعي بتضمين الوسع وتتم هذه العملية وفق المراحل التالية:

✗ **الاستقبال:**

يمكننا الهوائي (سلك موصل طوله حوالي 1m) من استقبال جميع الموجات الكهرومغناطيسية التي تمثل البرامج التي تبثها المحطات الإذاعية والقنوات التلفزيونية حيث ينشأ توتر كهربائي في هذا الهوائي.

✗ **الانتقاء:**

من أجل انتقاء إرسال واحد أو محطة واحدة من بين الإرسالات والمحطات الأخرى يلزم التوفيق بين التردد الخاص  $f_0 = \frac{1}{2\pi\sqrt{LC}}$  للدائرة المتوازية LC (الشرح الممرر للمنطقة) وتردد الموجة المنبعثة من المحطة، ويتم ذلك بضبط معامل التحريض الذاتي للوشيجة أو سعة المكثف.

✗ **التضخيم قبل إزالة التضمين:**

التوترات التي يستقبلها الهوائي تكون ذات وسع ضعيف، لذا يجب تضخيمها قبل البدء في عملية إزالة التضمين لأن الصمام الثنائي لا يسمح بمرور التوترات ذات وسع أقل من عتبة توتره.

✗ **إزالة التضمين:**

تسمح عملية إزالة التضمين باسترجاع الإشارة المضمّنة و من تم استرجاع المعلومة.