



سلسلة تمارين توازن جسم خاضع لقوتين

Www.AdrarPhysic.Com

أذكر شرطا توازن جسم صلب خاضع لقوتين.

التمرين 1

.....

.....

اختر الجواب الصحيح.

يوجد جسم صلب في حالة توازن، إذا كان في حركة / سكون بالنسبة للجسم المرجعي.

يوجد جسم موضوع فوق طاولة أفقية في توازن، تحت تأثير قوة / قوتين.

يوجد جسم صلب معلق بخيط في توازن تحت تأثير قوة / قوتين.

أجب بصحيح أو خطأ على الإقتراحات التالية :

التمرين 2

يمكن لجسم أن يكون في توازن وهو خاضع لقوة واحدة

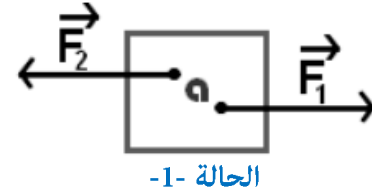
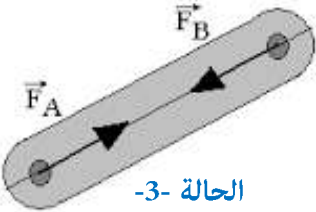
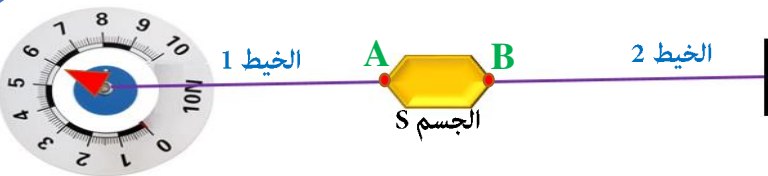
يمكن لجسم أن يكون في توازن وهو خاضع لقوتين

عندما يكون جسم في توازن وهو خاضع لقوتين فإن للقوتين نفس المنحى.

عندما يكون جسم في توازن وهو خاضع لقوتين فإن للقوتين نفس الشدة.

نعتبر الأجسام التالية، حدد التي توجد في حالة توازن معلقا جوابك.

التمرين 3

.....
.....
.....

يوجد الجسم S الخفيف جدا في توازن.

التمرين 4

1. حدد مميزات القوة F_1 المطبقة من طرف الخيط 1 على الجسم S.

نقطة التأثير	خط التأثير	المنحى	الشدة

2. بتطبيق شرطا التوازن استنتج مميزات القوة F_2 المطبقة من طرف الخيط 2 على الجسم S......
.....

نقطة التأثير	خط التأثير	المنحى	الشدة